





PREDIKSI SOAL UJIAN SEKOLAH TAHUN 2017
MATA PELAJARAN: IPS

Pilihlah salah satu jawaban yang paling benar!

No	Jenis legenda	Legenda yang menunjukkan jalan kereta api adalah gambar nomor
1		A. 1
2		B. 2
3		C. 3
4		D. 4

2. Fungsi mata angin pada peta adalah
A. Mengetahui arah pada peta
B. Menjelaskan simbol-simbol pada peta
C. Memberikan keterangan jarak peta
D. Menunjukkan batas peta
3. Laut yang sempit yang menghubungkan dua pulau disebut

A. Lautan
B. Samudra
C. Tanjung
D. Selat

4. Semakin curam kemiringan lereng atau kawasan semakin besar kemungkinan terjadinya
A. Erosi
B. Banjir
C. Longsor
D. Abrasi

5. Perhatikan!

- a. Melaksanakan tebang pilih
b. Mengurangi tingkat keterjalannya lereng
c. Membuat sengkedan
d. Larangan membangun rumah di bantaran sungai

Upaya tepat penanggulangan bencana banjir adalah

A. a dan b
B. b dan c
C. c dan d
D. a dan d

6. Kegiatan ekonomi yang paling tepat memanfaatkan kayu adalah
A. Perkebunan dan industri
B. Mebel dan kayu lapis
C. Transportasi dan perdagangan
D. Pabrik kertas dan tekstil

7. Metanol adalah bahan bakar cair untuk menggerakkan berbagai macam mesin industri. Metanol hasil olahan ...
A. Minyak bumi
B. Batu bara
C. Gas alam
D. Panas bumi

8. Perhatikan pernyataan di bawah ini!

- 1) Peninggalan sejarah warisan budaya harus dijaga kelestariannya.
2) Warisan leluhur perlu kita jaga sebagai kekayaan budaya bangsa.
3) Benda-benda peninggalan sejarah sudah kuno tidak perlu dirawat.
4) Kita perlu menjaga benda warisan nenek moyang.

Dari pernyataan di atas ada tiga pernyataan yang merupakan penentuan sikap yang tepat dalam menjaga kelestarian peninggalan sejarah

A. 1), 2), 3)
B. 1), 3), 4)
C. 1), 2), 4)
D. 2), 3), 4)

9. Gambar disamping adalah masjid bersejarah peninggalan kerajaan



A. Majapahit
B. Sriwijaya
C. Mataram
D. Demak

10. Pak Karman lebih suka membajak sawah menggunakan traktor daripada kerbau, karena
A. traktor dapat digunakan pada setiap jenis tanah daripada kerbau
B. traktor mengeluarkan energi lebih kecil daripada kerbau
C. traktor memerlukan bahan bakar listrik daripada

kerbau

D. traktor mampu mengerjakan dengan cepat daripada sapi/kerbau

11. Pada zaman dahulu sudah ada bermacam-macam alat komunikasi. Contoh alat komunikasi pada zaman dahulu adalah

A. e-mail
B. satelit
C. kentongan
D. pesawat

12. Pasangan yang tepat masalah sosial dan dampaknya adalah

Masalah sosial	Dampak
A. Kemiskinan dan pengangguran	• putus sekolah
B. Kependudukan	• lapangan kerja banyak
C. Pencemaran lingkungan	• Banjir
D. Perilaku tidak disiplin	• Kenakalan remaja

13. Upaya tepat untuk menanggulangi persebaran penduduk yang tidak merata adalah

A. Transmigrasi
B. Program Keluarga Berencana
C. Urbanisasi
D. Pemberian bantuan modal usaha

14. Gambar di samping adalah senjata tradisional berasal dari Jawa Tengah yang bernama



A. Keris
B. Badik/golok
C. Clurit
D. Mandaw

15. Perhatikan pernyataan berikut!

- 1) Tidak menganggap suku sendiri yang paling baik dan suku yang lain jelek.
2) Meremehkan dan menghina adat istiadat, kebiasaan, dan hasil kesenian suku bangsa lain.
3) Menghormati suku, agama, budaya, dan adat istiadat orang lain yang sesuai dengan budaya kita.
4) Kalau menjadi pemimpin masyarakat, kita harus melindungi semua golongan yang ada dalam masyarakat.

Cara tepat menghargai keragaman budaya adalah

A. 1) dan 2)
B. 2) dan 3)
C. 1) dan 4)
D. 3) dan 4)

16. Usaha untuk mengolah atau memanfaatkan mineral demi kesejahteraan manusia disebut

A. kehutanan
B. pertambangan
C. perindustrian
D. perikanan

17. Perhatikan!

1) CV (Commanditaire Vennotschaap/Persekutuan Komanditer)	4) Usaha perdagangan
2) Pertanian	5) BUMN (Badan Usaha Milik Negara)
3) Perseroan Terbatas (PT)	6) Industri kecil

Berdasarkan data di atas, jenis usaha yang dikelola sendiri adalah

A. 1), 2), 3)
B. 2), 3), 4)
C. 3), 4), 5)
D. 2), 4), 6)

18. Pak Rojak dan teman-temannya adalah nelayan. Mereka melaut, menjala ikan, menjemur ikan, dan mengasinkan ikan. Kegiatan mereka disebut

A. konsumsi
B. produksi
C. retribusi
D. distribusi

19. Peninggalan sejarah di samping merupakan bukti kejayaan pada masa raja

A. Rakai Pikatan
B. Smaradungga
C. Hayam Wuruk
D. Ken Arok



20. Perhatikan tabel!

No	Nama Raja	
1.	Hayam Wuruk	3. Raden Wijaya
2.	Mulawarman	4. Jayanegara

Kerajaan yang mempunyai patih dengan cita-cita mempersatukan seluruh nusantara mengalami masa kejayaan pada masa pemerintahan nomor....

- A. 1 C. 3
B. 2 D. 4

21. Perhatikan peta!



Pulau yang memiliki 2 wilayah Waktu Indonesia Barat dan Waktu Indonesia Tengah, ditunjukkan nomor....

- A. 4 C. 2
B. 3 D. 1

22. Perjuangan yang masih bersifat kedaerahan pada masa penjajahan Belanda mengakibatkan

- A. Raja-raja saling bermungsuhan
B. Belanda mengalami kekalahan
C. Belanda dengan mudah menguasai nusantara
D. Rakyat Indonesia menderita

23. Gambar tokoh di samping memimpin perang rakyat Tegalrejo melawan Belanda tanggal 20 Juli 1825 bernama

- A. Imam Bonjol
B. Kyai Mojo
C. Sentot Ali Basyah Prawiradirja
D. Pangeran Diponegoro



24. Perhatikan tabel!

No	Nama tokoh
1.	Ir. Soekarno
2.	Drs Moh. Hatta
3.	Mr. Ahmad Subarjo
4.	A. Kahar Muzakir

Tokoh persiapan kemerdekaan yang lahir secara berurutan di Surabaya dan Bukittinggi adalah

- A. 1 dan 2 C. 1 dan 4
B. 3 dan 4 D. 2 dan 3

25. Tokoh Ir. Soekarno dalam persiapan kemerdekaan Indonesia berperan sebagai

- A. Ketua BPUPKI dan Ketua PPKI
B. Ketua Panitia Sembilan dan Proklamator Kemerdekaan
C. Ketua BPUPKI dan Proklamator Kemerdekaan
D. Ketua Panitia Sembilan dan Ketua PPKI

26. Dalam seputar peristiwa Proklamasi Kemerdekaan 17 Agustus 1945, peran tokoh di samping adalah



- A. Mengajak Ir. Soekarno untuk bersedia ke Rengasdengklok
B. Mengetik teks Proklamasi
C. Mendampingi Ir. Soekarno dalam membacakan teks Proklamasi
D. Membacakan teks Proklamasi

27. **Peristiwa Seputar Proklamasi**

- 1) Menolak segera memproklamasikan pada tanggal 16 Agustus 1945
2) Berangkat ke kota Dalat
3) Memproklamasikan Kemerdekaan RI

Tokoh yang berperan dalam peristiwa pada tabel di atas adalah

- A. Ir. Soekarno dan Rajiman Widyodiningrat
B. Ir. Soekarno dan Drs. Mohammad Hatta
C. Radjiman Widyodiningrat dan Drs. Moh. Hatta
D. Moh. Yamin dan Ir. Soekarno

28.

No	Nama Peristiwa
1.	Brigjen AWS Mallaby terbunuh
2.	Mohammad Toha gugur
3.	Kolonel Soedirman berhasil mengusir Sekutu pada tanggal 15 Desember 1945

Peristiwa di atas, terjadi secara berurutan terjadi di

- A. 1 Surabaya, 2 Ambarawa, 3 Semarang
B. 1 Ambarawa, 2 Surabaya, 3 Bandung
C. 1 Semarang, 2 Surabaya, 3 Ambarawa
D. 1 Surabaya, 2 Bandung, 3 Ambarawa

29.

No	Tempat wisata	
1.	Halong Bay	3. Borobudur
2.	Angkorwat	4. Kuil Muhamariamman

Tempat wisata pada nomor 1 dan 4, terdapat di negara....

- A. Indonesia C. Vietnam
B. Malaysia D. Thailand

30. Lagu kebangsaan negara yang mempunyai Istana Macalanang adalah

- A. Lupang Hinirang C. Allah Peliharakan Sultan
B. Negaraku D. Pleng xat Lao

31.

No	Mata Uang	
1.	Bath	3. Dong
2.	Ringgit	4. New Kip

Negara dengan mata uang 1 dan 3 mempunyai bentuk pemerintahan

- A. Republik dan Kesultanan
B. Kerajaan dan Republik Sosialis
C. Republik Sosialis dan Kerajaan
D. Kerajaan dan Republik Demokratik

32. Negara dengan bahasa Melayu dan mata uang Ringgit mempunyai Kepala Negara

- A. Sultan C. Presiden
B. Yang Dipertuan Agung D. Kaisar

33. Perilaku masyarakat yang dapat menyebabkan renggangnya hubungan antar negara anggota ASEAN seperti

- A. pertukaran pelajar dalam menuntut ilmu
B. menggunakan warna bendera untuk pakaian
C. mencari ikan di batas negara ASEAN
D. merobek-robek bendera negara-negara ASEAN saat unjuk rasa

34. Gurun Gobi merupakan gurun terluas ke dua di dunia terdapat di negara

- A. Arab Saudi C. Cina
B. Irak D. Yaman

35. Hasil pertanian terbesar di dunia dari sebuah negara yang beribukota di Paris adalah

- A. kurma C. apel
B. jeruk D. anggur


36. Perhatikan peta di bawah ini!



Sungai terpanjang yang terletak di negara penghasil kopi Amazon

- A. Amazon
B. Nil
C. Mississippi
D. Missouri

37. Negara di kawasan Asia Selatan yang wilayahnya berbentuk kepulauan adalah

- A. Maladewa beribukota di Male
 B. Maladewa beribukota di Thimbu
 C. India beribukota di New Delhi
 D. India beribukota di Dakka
38.  Tempat bangunan bersejarah dan merupakan keajaiban dunia yang sesuai dengan gambar di samping adalah....
 A. Menara Pisa di Italia
 B. Colloseum Roma di Italia
 C. Tembok Besar di Cina
 D. Menara Eiffel di Paris

39. Hewan dan tumbuhan yang hidup di benua Australia adalah

Hewan	Tumbuhan
A. Kanguru	• Kurma
B. Komodo	• Pohon Pinus
C. Dingo	• Eucaliptus
D. Ikan Belunga	• Bunga Tulip

40. Perhatikan tabel!

No	Nama Negara	Sebutan
1.	Amerika Serikat	a. Kincir Angin
2.	Belanda	b. Negeri Jiran
3.	Jepang	c. Paman Sam
4.	Malaysia	d. Matahari Terbit

Pasangan yang tepat nama negara dan sebutannya adalah

- A. $1b - 2a - 3d - 4c$ C. $1d - 2a - 3c - 4b$
 B. $1c - 2a - 3b - 4d$ D. $1c - 2a - 3d - 4b$
41. Perbedaan gempa tektonik dan vulkanik yang benar adalah
 A. tektonik disebabkan pergeseran lempeng bumi sedang vulkanik oleh tanah yang runtuh
 B. tektonik disebabkan oleh adanya pergeseran lempeng bumi sedang vulkanik disebabkan aktivitas gunung berapi
 C. vulkanik disebabkan pergeseran lempeng bumi sedang tektonik oleh tanah yang runtuh
 D. vulkanik disebabkan oleh adanya pergeseran planet sedang vulkanik disebabkan aktivitas gunung berapi
42. Salah satu dampak pemanasan global yang tepat adalah
 A. puncak Alpen mencair, gurun Sahara tenggelam, hewan akan mati
 B. iklim tidak stabil, peningkatan permukaan laut, gangguan ekologis
 C. budaya akan meningkat, perubahan penyakit tumbuhan akan mati
 D. penyakit kulit di mana-mana, Kutub Utara akan mencair, suhu di khatulistiwa menurun

43.

No	Pernyataan
1.	Matikan alat-alat yang menggunakan listrik
2.	Lari ke tempat yang lapang
3.	Mencari tempat yang lebih tinggi
4.	Reboisasi

Cara menghadapi banjir ditunjukkan nomor

- A. 1 dan 4 C. 2 dan 4
 B. 2 dan 3 D. 1 dan 3
44. Perhatikan tabel!
- | | |
|----|--|
| 1. | Pembangunan vila di perbukitan |
| 2. | Membuang sampah sembarangan |
| 3. | Pembabatan hutan |
| 4. | Hujan lebat di lereng gunung yang gundul |

Penyebab utama tanah longsor adalah

- A. 1 dan 2 C. 1 dan 4
 B. 2 dan 3 D. 3 dan 4

45. Dibawah ini perubahan perilaku masyarakat sebagai dampak dari globalisasi di bidang pendidikan, yaitu
 A. Masyarakat memilih merk-merk pakaian import
 B. Masyarakat menggunakan jaringan internet gratis
 C. Manusia tergantung pada teknologi
 D. Masyarakat menggunakan transportasi mahal.

46. Dampak globalisasi
 1) Perubahan tata nilai dan sikap
 2) Tingkat kehidupan yang lebih baik
 3) Adanya solidaritas yang tinggi antar bangsa
 4) Berkembangnya ilmu
 Dampak positif globalisasi diatas di bidang
 A. Pendidikan C. Politik
 B. Sosial Budaya D. Ekonomi

47. Kerjasama yang dilakukan Indonesia dengan Arab Saudi untuk penambahan kuota haji termasuk kerjasama

- A. Multilateral C. Internasional
 B. Regional D. Bilateral

48. Perhatikan tabel!

No	Barang Import	
1.	Terigu	3. Wol
2.	Rosela	4. Gandum

Barang import Indonesia adalah

- A. 1 dan 2 C. 3 dan 4
 B. 2 dan 3 D. 1 dan 4

49. Alasan Indonesia mengimpor barang adalah

- A. Sudah ada barang dalam negeri tetapi belum mencukupi
 B. Sudah ada barang dalam negeri yang melimpah
 C. Sudah diproduksi di dalam negeri tetapi bahan baku kekurangan
 D. Sudah diproduksi di dalam negeri dengan jumlah yang banyak

50. Manfaat investasi modal bagi pemerintah adalah

- A. Sebagai peluang bisnis investor asing
 B. Mendapatkan dana bantuan dari negara lain
 C. Mendapatkan pinjaman dari bank dunia
 D. Menarik investor asing

=====00000=====

KUNCI JAWABAN

1.	D	26.	C
2.	A	27.	B
3.	D	28.	D
4.	C	29.	C
5.	D	30.	A
6.	B	31.	B
7.	B	32.	B
8.	C	33.	D
9.	D	34.	C
10.	D	35.	D
11.	C	36.	A
12.	A	37.	A
13.	A	38.	B
14.	A	39.	C
15.	C	40.	D
16.	B	41.	B
17.	D	42.	B
18.	B	43.	D
19.	A	44.	C
20.	A	45.	C
21.	B	46.	B
22.	C	47.	D
23.	D	48.	C
24.	C	49.	A
25.	D	50.	D