

МИНИСТАРСТВО ПРОСВЕТЕ И НАУКЕ И ТЕХНОЛОШКОГ
РАЗВОЈА РЕПУБЛИКЕ СРБИЈЕ
И СРПСКО ГЕОГРАФСКО ДРУШТВО

ОПШТИНСКО ТАКМИЧЕЊЕ ИЗ
ГЕОГРАФИЈЕ
ЗА 7. РАЗРЕД



Београд, 2018.



РЕШЕЊА

1. Камбоџа, Лаос Вијетнам
2. Е, Ј, Ј, Е, Е, Ј, Е, Ј
3. Саудијска Арабија; пиринач
4. а, г
5. в
6. в, г
7. в, д, а, б, њ
8. Т, Н, Н, Т, Н, Т
9. а, д
10. а, в, г
11. Н, Т, Т, Н, Т, Н
12. а, в
13. б, г, а, в
14. в
15. Египат; нафта; Калахари; какао; Етиопија
16. А) 2, 1; Б) а, в
17. а, г
18. в, г
19. Т, Т, Н, Т, Н
20. Конго, Нигер, Орање
21. б, в
22. а, в



1. Од понуђених држава, подвучи оне које припадају Југоисточној Азији:

Индија Камбоџа Оман Лаос Турска Вијетнам

(3x1=3)

2. Наведени географски појмови су карактеристични за Египат или Јужноафричку републику. На празну линију поред појма упиши слово Е уколико се појам односи на Египат, а слово Ј уколико се појам односи на Јужноафричку републику.

- а) Каиро _____ д) Александрија _____
б) Јоханесбург _____ њ) Дракенске планине _____
в) Лимпопо _____ е) Асуанска брана _____
г) Нил _____ ж) Преторија _____

(8x1=8)

3. Дате тврдње се односе на одређени географски појам. На основу тврдњи закључи који је то загонетни појам. Напиши назив појма на празну линију испод текста.

Држава је Азије

Највећи део државе обухвата пустиња

Једна је од највећих произвођача нафте у свету

Обухвата највећи део Арабијског полуострва

Пољопривредна је култура

Захтева доста влаге

Не гаји се у Југозападној Азији

Највећи светски произвођач је Кина

(1x1=2)

4. Шта би се десило када би реке Аму Дарја и Сир Дарја пресушиле? Заокружи слова испред тачних одговора.

- а) Производња памука у Средњој Азији би била угрожена
б) Аралско језеро би удвостручило своју површину
в) Клима Средње Азије би била влажнија
г) Аралско језеро би сасвим нестало
д) Биљни и животињски свет Средње Азије би био разноврснији

(2x3=6)



5. Која од наведених природних непогода је карактеристична за Југозападну Азију? Заокружи слово испред тачног одговора.

а) клижење гла

б) торнадо

в) пешчана олуја

(1x1=1)

6. Зашто Јужна Азија има боље и разноврсније географске услове за развој пољопривреде од Југозападније Азије? Заокружи слова испред тачаних одговора.

а) Због различите етничке структуре становништва

б) Због мање опасности од земљотреса

в) Због влажније климе

г) Због повољнијег рељефа

д) Због сушније климе

(2x2=4)

7. Дати географски назив из леве колоне повежи са одговарајућом географском појавом из десне колоне. Напиши одговарајуће слово на празну црту.

а) Калахари _____ држава

б) Тангањика _____ река

в) Боцвана _____ пустиња

г) Атлас _____ језеро

д) Орање _____ народ

ђ) Пигмеји

(5x1=5)

8. Које од наведених животиња живе у саванама Африке? Уз оне које живе стави слово Т, а уз оне које не живе у саванама Африке стави слово Н.

а) жирафа _____

б) горила _____

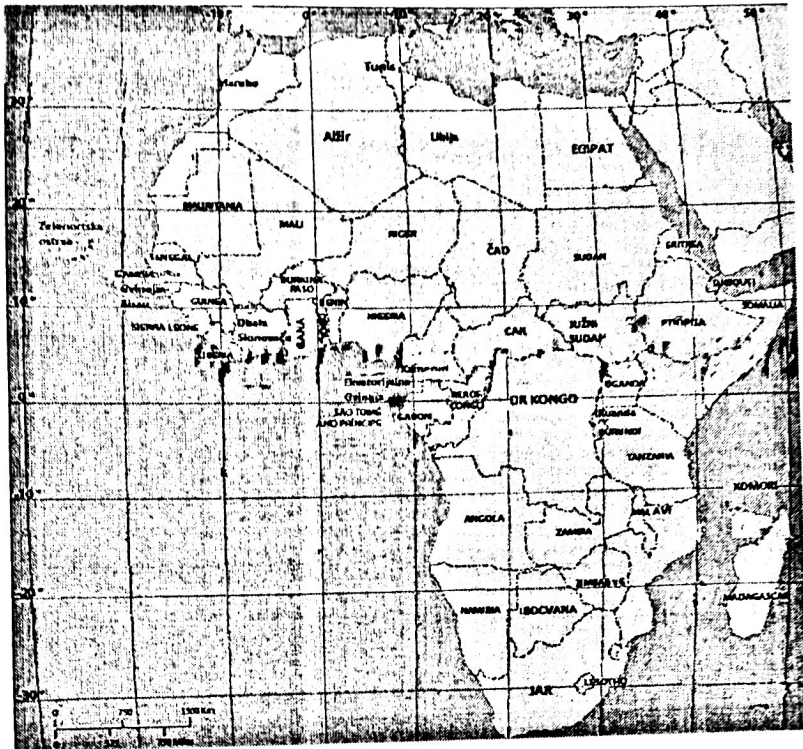
в) вук _____

г) лав _____

д) лемур _____

ђ) слон _____

(6x1=6)



9. Заокружи државе у којима лето почиње 22. децембра.

- а) Јужноафричка република
- б) Либија
- в) Мароко
- г) Египат
- д) Мадагаскар

(2x2=4)

10. Пошто Индонезија припада Ватреном појасу Пацифика, које од наведених природних појава се могу јавити у Индонезији? Заокружи слова испред тачних одговора.

- а) цунами
- б) суша
- в) земљотрес
- г) вулканизам
- д) лавине

(3x2=6)

11. Који је од наведених типова климе је заступљен у Африци? Уз оне типове климе који су заступљени упиши слово Т, а уз оне који нису упиши слово Н.

- а) клима тундре (субполарна клима) _____
- б) планинска клима _____
- в) клима саване _____
- г) монсунска клима _____
- д) средоземна клима _____
- ђ) поларна клима _____

(6x1=6)



12. Зашто настају вади или уади? Заокружи слова испред тачних одговора.

- а) због високих температура током читаве године
- б) због великог искоришћавања воде од стране локалног становништва
- в) због мале количине падавина
- г) због равномерне расподеле падавина
- д) због малог нагиба рељефа

(2x2=4)

13. Биљну културу из леве колоне повежи са географском регијом у којој се доста гаји датој у десној колони. Напиши одговарајуће слово на празну црту.

- а) соја _____ Југозападна Азија
- б) урма _____ Средња Азија
- в) јута _____ Источна Азија
- г) памук _____ Јужна Азија

(4x1=4)

14. У ком од наведених градова Сунце прво излази ујутру. Заокружи тачан одговор.

- а) Техеран
- б) Владивосток
- в) Токио
- г) Пекинг

(1x2=2)

15. У наведеним тврдњама тамним (болдираним) словима исписани су тачни и нетачни појмови. У свакој тврдњи заокружи тачан појам.

Најразвијенија туристичка земља Северне Африке је Алжир / Египат.

Либија је водећа у Африци по резервама нафте / угља.

Бушмани су народ који живи у пустињи Сахара / Калахари.

Обала Слоноваче је прва земља у Африци по производњи какаоа / урме.

Покрајина по којој је кафа добила име налази се у држави Намибија / Етиопија.

(5x1 = 5)



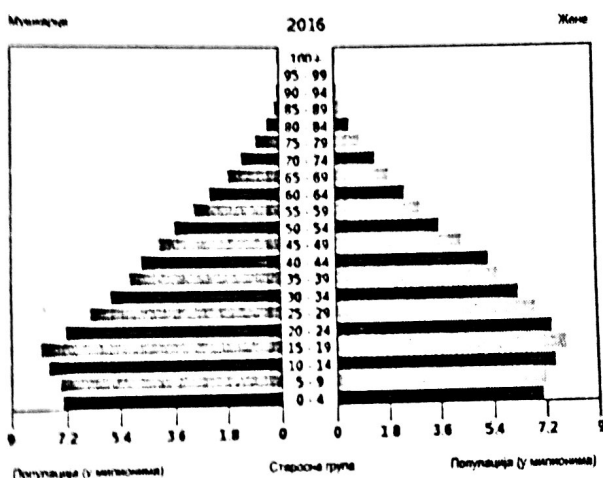
16.

А) Дате су старосно – полне пирамиде Јапана и Бангладеша. На основу знања о демографским карактеристикама Јапана и Бангладеша, поред назива држава, на празну црту, напиши број старосне пирамиде која приказује старосно – полну структуру њеног становништва.

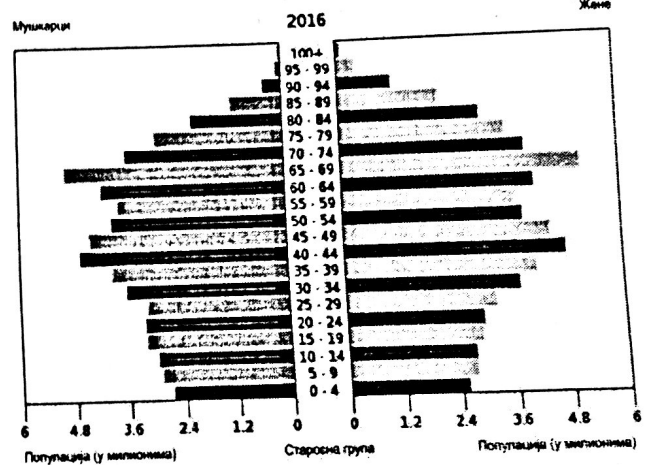
_____ Јапан

_____ Бангладеш

(2x2 = 4)



1.



2.

Б) На основу анализе података приказаних у старосно – полним пирамидама заокружи слова испред тачних одговора.

а) Удео становништва од 15 до 19 година у укупном становништву је већи у Бангладешу у односу на Јапан.

б) Становништво Јапана је млађе него становништво Бангладеша.

в) Удео старог становништва је већи у Јапану у односу на Бангладеш.

(2x2 = 4)

17. Зашто се река Хоангхо назива „Жута река“? Заокружи слова испред тачних одговора.

а) зато што протиче кроз лесни плато

б) због развијене текстилне индустрије у њеном приобаљу

в) због специфичног планктона жуте боје

г) због велике количине муља који носи њена вода

д) због учесталих поплава

(2x2=4)



18. Замислите ситуацију да хладна морска струја Ојашија достиже до острва Кјушу. Како би то утицало на климу Јапана? Заокружи слова испред тачних одговора.

- а) Клима би постала још влажнија
- б) Летњи месеци би били изразито топли
- в) Зимски месеци би били хладнији
- г) Клима би била сушнија
- д) Зимски месеци би били без снежних падавина

(2x3=6)

19. Које од наведених планина су веначне (набране) по начину постанка? Уз оне које јесу упиши слово Т, а уз оне које нису упиши слово Н.

- а) Кавказ _____
- б) Хималаји _____
- в) Фуџијама _____
- г) Памир _____
- д) Урал _____

(5x1 = 5)

20. Од понуђених река, подвуци оне које се уливају у Атлантски океан.

Нил Конго Нигер Замбези Орање Лимпопо

(3x1=3)

21. Замислите ситуацију да Јужноафричка република не поседује велико рудно богатство. Које би онда биле карактеристике привреде те државе? Заокружи слова испред тачних одговора.

- а) Развијена тешка индустрија
- б) Пољопривреда је доминантна привредна грана
- в) Развијена прехранбена индустрија
- г) Добијање електричне енергије из термоелектрана
- д) Веће учешће нуклеарне енергије у процесу добијања електричне енергије

(2x3=6)



22. Који од наведених градова излази на море или океан? Заокружи слова испред тачних одговора.

- а) Шангај
- б) Њу Делхи
- в) Токио
- г) Техеран
- д) Анкара

(2x1=2)

Укупан број бодова: 100

Такмичар је на тесту освојио _____ бодова

Чланови комисије:

- 1) _____
- 2) _____
- 3) _____